



САМОСТОЯТЕЛНА РАБОТА № 3

Име: _____ III клас № _____ Дата: _____

ТЕМА:

СЪБИРАНЕ И ИЗВАЖДАНЕ НА ЧИСЛАТА ДО 1 000

Зад.1. Пресметни и огради буквата пред верния отговор. (6 x 1 м.)



$\begin{array}{r} 237 \\ + 495 \\ \hline \dots\dots \end{array}$	a) 622 б) 722 в) 732 г) 632	$\begin{array}{r} 348 \\ + 254 \\ \hline \dots\dots \end{array}$	a) 592 б) 502 в) 692 г) 602	$\begin{array}{r} 563 \\ + 37 \\ \hline \dots\dots \end{array}$	a) 590 б) 690 в) 600 г) 860
--	--------------------------------------	--	--------------------------------------	---	--------------------------------------



$\begin{array}{r} 526 \\ - 347 \\ \hline \dots\dots \end{array}$	a) 289 б) 279 в) 189 г) 179	$\begin{array}{r} 802 \\ - 154 \\ \hline \dots\dots \end{array}$	a) 758 б) 748 в) 658 г) 648	$\begin{array}{r} 400 \\ - 32 \\ \hline \dots\dots \end{array}$	a) 378 б) 478 в) 108 г) 368
--	--------------------------------------	--	--------------------------------------	---	--------------------------------------




Зад.2. Пресметни и огради буквата пред верния отговор. (2 x 2 м.)

$7 \cdot 8 + 464 =$	a) 510	$81 : 9 + 349 =$	a) 358
$= \dots\dots\dots$	б) 520	$= \dots\dots\dots$	б) 348
$= \dots\dots$	в) 420	$= \dots\dots\dots$	в) 448
	г) 410		г) 458

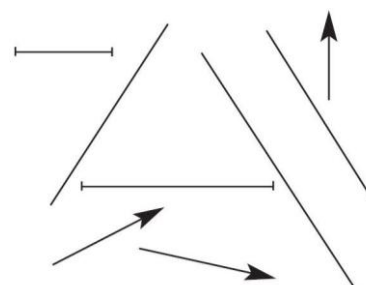
Зад.3. Кой знак ще поставиш в празното квадратче? Огради буквата пред верния отговор. (2 x 2 м.)

$800 - 348 \square 700 - 248$	a) >	$59 + 141 \square 621 - 459$	a) >
$\dots\dots\dots$	б) =	$\dots\dots\dots$	б) =
	в) <		в) <



Зад.5. Огради в коя колона всички отговори са верни. (2 м.)

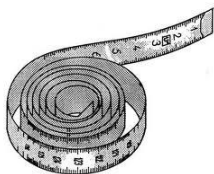
- | | | |
|--|--|--|
| a) отсечките са 3
правите са 2
лъчите са 3 | | б) отсечките са 2
правите са 3
лъчите са 3 |
|--|--|--|



Зад.6. Огради в коя колона всички отговори са верни. (2 т.)



- а) $100 \text{ см} = 1 \text{ м}$
 $1 \text{ дм} = 10 \text{ мм}$
 $1 \text{ км} = 100 \text{ м}$



- б) $1 \text{ 000 м} = 1 \text{ км}$
 $1 \text{ дм} = 10 \text{ см}$
 $10 \text{ мм} = 1 \text{ см}$

Зад.7. Огради буквата пред вярното решение на задачата. (3 т.)

В градската спортна школа има 163 момчета, които са със 75 повече от момичетата.

Колко са общо децата в спортната школа?



Решение:

Отг.: са общо децата в спортната школа.

а) $163 + 75 = 238$
 $163 + 238 = 401$ (деца)

б) $163 - 75 = 88$
 $163 + 88 = 251$ (деца)




Скала за оценка:

- 18 – 21 т. (Отличен)
- 15 – 17 т. (Много добър)
- 11 – 14 т. (Добър)
- 8 – 10 т. (Среден)
- 0 – 7 т. (Слаб)

Максимален брой точки: **21**

Брой точки за верни отговори:



Оценка:

Проверил:



*Уважаеми родители,
 Табличката ще Ви ориентира за мястото
 на Вашето дете в момента.*

Родител:

Оценка	6	5	4	3	2
Брой уч-ци					

Забележка: Самостоятелната работа №3 е от Книгата за учителя по математика 3. клас, автори - Ангелина Манова, Рени Рангелова, Юлияна Гарчева. Издателство „Просвета - София”, 2004, 2008 г.

Подготовка и оформление: Руска Тодорова